

《成績を上げる大切なこと3箇条》

- ① 今まで取り組んだ「学校ワーク」「塾の授業・宿題」を思い出しながらかく!
- ② 問題を作る側の気持ちを逆に読み取ろう!⇒何を答えさせたいかを考える!
- ③ 間違えた問題は「次に似た問題が出たときにどう意識して解くか」を考える!

得点

100

1	2 点 × 17 問	1 小計	34
---	------------	------	----

(1)	①	インドス	②	アラビア	③	イスラム
	④	ヒンドゥー	⑤	チベット	⑥	黄河
	⑦	長江	⑧	仏	⑨	キリスト
(2)	小麦	(3)	華中	(4)	経済特区	
(5)	モンスーン	(6)	ASEAN	(7)	メッカ	
(8)	OPEC	(9)	プランテーション			

2	(2)完答	1 点 × 5 問	2 小計	5
---	-------	-----------	------	---

(1)	BRICS	(2)	農作物	米	国	タイ
(3)	ウ	(4)	①	カ	②	イ

3		1 点 × 9 問	3 小計	9
---	--	-----------	------	---

(1)	6	(2)	気候帯	乾燥帯	宗教	イスラム教
(3)	経済特区	(4)	湾	ペルシャ湾	鉱産資源	石油
(5)	機械類	(6)	①	雨季	②	乾季

4	(7)完答	1 点 × 14 問	4 小計	14
---	-------	------------	------	----

(1)	北大西洋海流	(2)	アルプス山脈	(3)	ライン川
(4)	フィヨルド	(5)	混合農業	(6)	地中海式農業
(7)	① 小麦	②	飼料	(8)	ラテン系言語
(9)	ルール工業地帯	(10)	ユーロ		

(11)	国	オランダ	港	ユーロポート	(12)	ユーロトンネル
(13)	偏西風					

5 1 点 × 9 問 5 小計 9

(1)	サハラ砂漠	(2)	ナイル川	(3)	カカオ
(4)	アパルトヘイト	(5)	サバナ	(6)	牧畜
(7)	レアメタル	(8)	モノカルチャー経済	(9)	AU

6 (3) 2 点、他 1 点 × 5 問 6 小計 7

(1)	イ	(2)	エジプト	(3)	経線や緯線によって定められた。
(4)	イスラム教	(5)	エ	(6)	ウ

7 (2)②・③ 3 点 × 2 問、他 1 点 × 3 問 7 小計 9

(1)	イ				
(2)	①	X	ウ	Y	ア
	②	外国企業が有利な条件で受け入れる経済特区が設けられたから。			
	③	人口が多いため労働者が多く、また労働者の賃金が安いから。			

8 (1)完答 1 点 × 3 問 8 小計 3

(1)	A	イ	B	ア	C	ウ	(2)	イ	(3)	エ
-----	---	---	---	---	---	---	-----	---	-----	---

9 1 点 × 2 問 9 小計 2

(1)	ウ	(2)	エ
-----	---	-----	---

10

1 点 × 8 問

10
小計

8

(1)	A	綿花	B	コーヒー	C	カカオ
(2)	X	金	Y	石油	Z	銅
(3)	ウ	(4)	ODA			

《成績を上げる大切なこと3箇条》

- ① 今まで取り組んだ「学校ワーク」「塾の授業・宿題」を思い出しながら解く!
- ② 問題を作る側の気持ちを逆に読み取ろう!⇒何を答えさせたいかを考える!
- ③ 間違えた問題は「次に似た問題が出たときにどう意識して解くか」を考える!

得点



1 1 点 × 8 問 1
小計 8

(1)	ウ	(2)	ウ	(3)	イ	(4)	ウ
(5)	扇状地	(6)	甲府	(7)	え		
(8)	原子力発電所						

2 2 点 × 8 問 2
小計 16

(1)	①	工	②	ウ	(2)	ア	(3)	工
(4)	工	(5)	記号	い	建築様式	合掌造り		
(6)	中部国際空港							

3 1 点 × 15 問 3
小計 15

(1)	①	工	②	イ	③	ア			
(2)	ウ	(3)	単作	(4)	銘柄米				
(5)	①	a	越後平野	b	信濃川	e	赤石山脈		
	①	g	濃尾平野	②	日本アルプス	③	C		
(6)	①	扇状地	②	イ ● ウ	③	諏訪盆地			

4 1 点 × 6 問 4
小計 6

(1)	利根川	(2)	ア	(3)	イ		
(4)	名称	成田国際空港	記号	ウ	(5)	工	

5				1 点 × 9 問				5 小計	9
(1)	記号	ウ	平野	庄内平野	(2)	イ			
(3)	やませ		(4)	工	(5)	リアス(式)海岸			
(6)	①	養殖漁業		②	栽培漁業		(7)	東北新幹線	

6				1 点 × 8 問				6 小計	8
(1)	a	横浜市		b	川崎市	b	さいたま市		
(2)	関東平野			(3)	関東ローム		(4)	い	
(5)	記号	ウ	名称	からっ風	(6)	ヒートアイランド現象			

7				2 点 × 10 問				7 小計	20
(1)	亜熱帯の気候		(2)	3分の1		(3)	中枢機能		
(4)	京浜工業地帯		(5)	京葉工業地域		(6)	工業団地		
(7)	昼間人口		(8)	輸送園芸農業		(9)	成田国際空港		
(10)	名称	東京スカイツリー		高さ	634m				

8				(1)は 3 点 ,(2) 1 点 × 1 問				8 小計	4
(1)	飼育農家の戸数は減少しているが、飼育頭数が増加しているので経営規模は拡大している。								
(2)	ウ								

9				(1)~(3) 1 点 × 4 問 ,(4) 3 点 × 1 問				9 小計	7	
(1)	島	択捉島		領土問題	北方領土		(2)	イ	(3)	ア
(4)	やませが吹いて、冷害になったため。									

9				1 点 × 7 問				9 小計	7	
(1)	工		(2)	ウ		(3)	酪農		(4)	工
(5)	イ		(6)	札幌市		(7)	ウ			

【おまけ問題の解答】

7


日本の諸地域—中部, 関東, 東北, 北海道地方(B) 名前

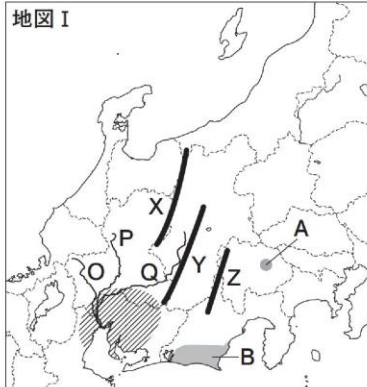
/20点

◆ 次の問いに答えなさい。


(1点×20)

(1) 地図Ⅰについて答えなさい。

- ① X～Zの山脈をあわせて何といますか。
- ② O～Qの川の下流で堤防に囲まれた土地のことを、漢字2字で何といますか。
- ③ の工業地帯を何といますか。
- ④ A・Bの地域で栽培がさかんな作物の名前をそれぞれ書きなさい。



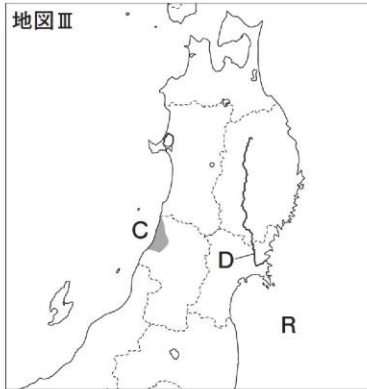
(2) 地図Ⅱについて答えなさい。

- ① a～cの港や空港の名前を書きなさい。
- ② の工業地域を何といますか。
- ③ ●の都市などで形成される、東京を中心とした地域のことを、漢字6字で何といますか。



(3) 地図Ⅲについて、次の問いに答えなさい。

- ① Cの平野、Dの川の名前を書きなさい。
- ② Rの付近でぶつかる寒流と暖流の名前を書きなさい。
- ③ 伝統産業の南部鉄器がつけられている県の名前を書きなさい。




(4) 北海道地方について答えなさい。

- ① 右のグラフのア～エの農作物を、次からそれぞれ選んで書きなさい。

〔小麦 てんさい
あずき じゃがいも〕

- ② 北海道にもともと住んでいた先住民の名前を、カタカナ3字で書きなさい。



(2009年) (農林水産省資料)

(1)	①	日本アルプス	
	②	輪中	
	③	中京工業地帯	
	④	A	ぶどう
(2)	①	a	成田国際 空港
		b	東京国際 空港
	c	横浜 港	
	②	京葉工業地域	
③	東京大都市圏		
(3)	①	C	庄内 平野
		D	北上 川
	②	寒流	親潮(千島海流)
		暖流	黒潮(日本海流)
③	岩手県		
(4)	①	A	てんさい
		I	あずき
		U	小麦
		E	じゃがいも
②	アイヌ の人たち		

《成績を上げる大切なこと3箇条》

- ① 今まで取り組んだ「学校ワーク」「塾の授業・宿題」を思い出しながら解く!
- ② 問題を作る側の気持ちを逆に読み取ろう!⇒何を答えさせたいかを考える!
- ③ 間違えた問題は「次に似た問題が出たときにどう意識して解くか」を考える!

得点

130

1	(4)・(6)③・(8)完答。	1 点 × 20 問	1 小計	20
---	-----------------	------------	---------	----

(1)	ア	インドシナ	イ	マレー	ウ	ミッドウエー		
	エ	サイパン	オ	沖縄				
(2)	日ソ中立条約		(3)	ABCD包囲陣(包囲網)				
(4)	都市名	ハワイ	場所	真珠湾	(5)	太平洋戦争		
(6)	①	東条英機	②	大東亜共栄圏				
	③	あ	学徒出陣	い	勤労働員			
(7)	①	東京	②	(学童)疎開				
(8)	地図	D	日付	8月 6 日	地図	E	日付	8月 9 日
(9)	①	ポツダム	②	ヤルタ会談	③	ハル・ノート	④	イ
(10)	玉音放送(ラジオ放送)を使って国民に伝えた。							

2	(6) Iは西暦・日付完答 (3)・(4)各 2 点、他 1 点 × 23 問	2 小計	27
---	---	---------	----

(1)	A	国際連合	B	マッカーサー	C	財閥			
	D	労働組合	E	労働基準	F	サンフランシスコ平和			
	G	日米安全保障	H	東京オリンピック	I	日韓基本条約			
	J	沖縄	K	日中共同声明					
(2)	連合軍最高司令官総司令部								
(3)	政府が強制的に土地を買い上げて、小作人に安く売り渡し、自作農を増やした。								
(4)	満20歳以上の男女								
(5)	東条英機								
(6)	I	公布	西暦	1946	年	11	月	3	日
		施行	西暦	1947	年	5	月	3	日

(6)	Ⅱ	平和主義	基本的人権の尊重	国民主権		
(7)	9年					
(8)	I	特需景気	Ⅱ	警察予備隊	Ⅲ	38
(9)	日ソ共同宣言					

3 (4)・(9)・(10)完答 1 点 × 17 問 3 小計 17

(1)	①	国際連合憲章	②	連合軍総司令部	③	朝鮮戦争			
	④	警察予備隊	⑤	48					
(2)	ウ	(3)	工	(4)	三井	住友	三菱	安田	
(5)	ウ	(6)	①	天皇	②	象徴	③	主権	
(7)	基本的人権の尊重				平和主義				
(8)	冷戦		(9)	軍事同盟	北大西洋条約機構(NATO)			記号	B
(10)	軍事同盟	ワルシャワ条約機構			記号	C			

4 1 点 × 18 問 4 小計 18

(1)	①	1947	年	5	月	3	日	②	B	
	③	ア	欽定		イ	天皇		ウ	国民	
		エ	法律		オ	基本的人権の尊重				
		カ	納税		キ	勤労		ク	教育	
④	第 9 条									
(2)	第 1 条	X	象徴							
(3)	①	$\frac{2}{3}$	②	$\frac{2}{3}$	③	発議				
	④	国民投票		⑤	過半数		⑥	天皇		

5 1 点 × 8 問 5 小計 8

(1)	A	自由権	B	社会	C	精神	D	身体
	E	健康	F	教育				
(2)	団体交渉権		(3)	ノーマライゼーション				

6

1 点 × 9 問

6
小計

9

(1)	(a)	マグナカルタ		(b)	権利(の)章典	
	(c)	ドイツ		(d)	社会	
	(e)	世界人権宣言				
(2)	A	イ	B	ウ	C	ア
(3)	男女雇用機会均等法					

7

(4)完答

1 点 × 20 問

7
小計

20

(1)	国民主権								
(2)	A	国際平和	B	国権	C	武力	D	国際紛争	
	E	永久	F	放棄	G	交戦権			
(3)	i	警察予備隊		ii	集団的自衛権				
	iii	シビリアンコントロール							
(4)	ア	健康	イ	文化的	ウ	最低限度			
(5)	第 25 条								
(6)	ア	14		イ	法の下		ウ	人種	
	エ	信条		オ	性別				
(7)	ア	(8)	児童(子ども)の権利条約						

8

1 点 × 5 問

8
小計

5

①	エ	②	イ	③	カ	④	ウ	⑤	オ
---	---	---	---	---	---	---	---	---	---

9

(2)・(3)は完答

1 点 × 6 問

9
小計

6

(1)	①	あ	男女雇用機会均等		い	男女共同参画社会基本			
	②	バリアフリー			(2)	国	ドイツ	憲法	ワイマール憲法
(3)	普通教育を受けさせる義務				納税の義務			勤労の義務	
(4)	公 共								

問題がかぶっていたり、一部範囲外も含まれていますが、どれも入試によく出るものばかりです。

このテスト対策をきっかけに覚えてしまいましょう！

★★★★★★★★★ 出題していないが、必ず覚えておいて欲しいこと ★★★★★★★★★★

- (非核三原則) …「核兵器を持たず、つくり、持ち込ませず」
- (国事行為) …「天皇」がする仕事
- (個人情報保護制度) …「プライバシーの権利」に基づいて整備された制度。
- (情報公開制度) …「知る権利」に基づいて整備された制度。
- (NGO (非政府組織)) …「国境なき医師団」・「アムネスティ・インターナショナル (死刑廃止)」
- (労働三法) …「労働基準法」・「労働組合法」・「労働関係調整法」

動画で歴史の流れ&頻出単元を確認しましょう！！



【動画視聴のポイント】ホワイトボードに書いてある赤字➡ 定期テストや入試頻出ワード！！